

Solides de l'espace. Représentations et calculs de volume.

Clément BOULONNE

Session 2020

Préambule

Niveau de la leçon

Transversal

Prérequis

Intégrales, géométrie dans l'espace.

Références

- M. CUAZ, *Géométrie dans l'espace, solides de l'espace*. URL : <http://hexomaths.fr/fichiers/GeometrieespaceCOURS.pdf>.
- Contributeurs de WIKIPÉDIA, *Solide géométrique*. Wikipédia.
- T. EVEILLEAU, *Les solides de Platon*. http://therese.eveilleau.pagesperso-orange.fr/pages/truc_mat/textes/platon.htm.
- S. DELAUNAY, *M302 : Cours de Géométrie I*, 2009-2010.
- C. BOULONNE, *Notes de cours, M103 : Fondements de l'analyse 2*. 2006-2007.

Table des matières

1	Définitions	2
1.1	Définition de la vie courante	2
1.2	Définition selon de grands mathématiciens	2
2	Règles de la perspective cavalière	2
2.1	Notion de perspective	2
2.2	Règles de construction	3
2.3	Propriétés de la perspective cavalière	3
3	Solides usuelles	3
3.1	Parallélépipèdes rectangles (ou pavés droits)	3
3.2	Prismes et cylindres	5
3.3	Pyramide	7
4	Solides de révolution	9
4.1	Définition	9
4.2	Boule et sphère	9


1 Définitions

1.1 Définition de la vie courante

Définition 1.1 (Solide). Un solide dans l'espace est un ensemble de points situés à l'intérieur d'une partie fermée de l'espace.

Définition 1.2 (Polyèdre). Lorsque ces solides sont déterminés par des surfaces planes polygonales, on les appelle « *polyèdres* ».

Ces surfaces sont alors appelées *faces*, dont les côtés sont des arêtes ayant pour extrémités des sommets du polyèdre.



Définition 1.3 (Volume). On appelle *volume* la portion de l'espace occupée par un solide.

Définition 1.4 (Patron). Un *patron* d'un solide est un modèle plan permettant de construire par pliage, le solide.

1.2 Définition selon de grands mathématiciens

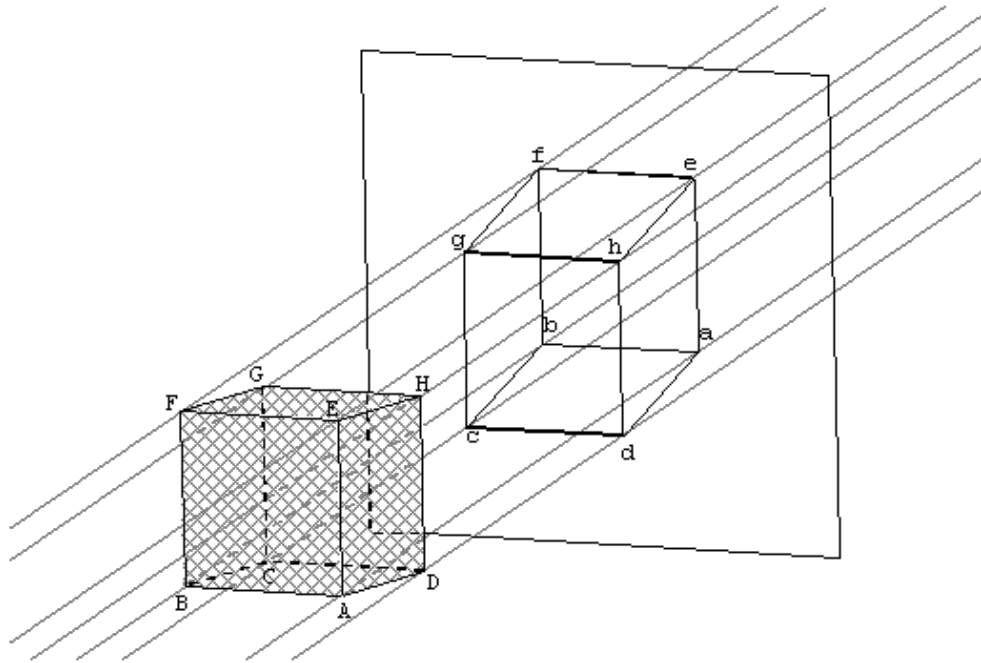
Définition 1.5 (Selon Platon). Est solide ce qui possède longueur, largeur et profondeur, et la limite d'un solide est une surface.

Définition 1.6 (Selon Leibniz). Le chemin suivi par un point se déplaçant vers un autre est une ligne (...) Le déplacement de cette ligne dont les points ne se remplacent pas sans cesse donne une surface. Le déplacement d'une surface dont les points ne se remplacent pas sans cesse donne un solide.

2 Règles de la perspective cavalière

2.1 Notion de perspective

Définition 2.1. La perspective est une technique de représentation des solides sur une surface plane.



Remarque 2.2. La perspective cavalière donne une meilleure idée de la forme réelle du cube dans l'espace.

2.2 Règles de construction

THÉORÈME 2.3 (RÈGLES DE CONSTRUCTION D'UN SOLIDE EN PERSPECTIVE CAVALIÈRE).

- Les éléments cachés sont tracés en pointillés, les éléments visibles sont en trait plein.
- Les éléments situés dans un plan vu de face (frontal) sont représentés en vraie grandeur.
- Les droites perpendiculaires au plan frontal sont représentées par des droites parallèles formant un angle (de fuite) avec l'horizontale.
- Les longueurs représentées dans la direction des lignes fuyantes ne sont pas les longueurs réelles (on les réduit par un coefficient de réduction en général 0,5 ou 0,7).

2.3 Propriétés de la perspective cavalière

PROPRIÉTÉS 2.4. — Deux droites parallèles sont représentées par deux droites parallèles.

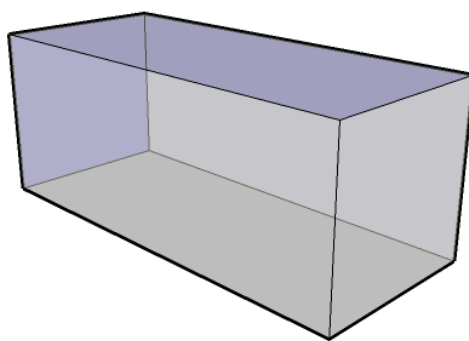
- Deux droites sécantes sont représentées par deux droites sécantes.
- Des points alignés sont représentés par des points alignés.
- Les milieux de segments sont conservés.

3 Solides usuelles

3.1 Parallélépipèdes rectangles (ou pavés droits)

Définition 3.1. Un parallélépipède rectangle est un polyèdre dont toutes les faces sont rectangulaires.

Il y a 6 faces, 8 sommets et 12 arêtes.



Remarque 3.2. Si toutes les faces du parallélépipède rectangle sont des carrés, on appelle ce solide, un cube.

PROPRIÉTÉ 3.3. Si on note L , l et h les dimensions du pavé droit, alors :

- le volume est : $L \times l \times h$;
- l'aire est $2 \times (Ll + lh + Lh)$;
- la grande diagonale mesure $\sqrt{L^2 + l^2 + h^2}$.

PROPRIÉTÉ 3.4. La section d'un pavé droit avec un plan parallèle à une face est un rectangle de même mesure que cette face.

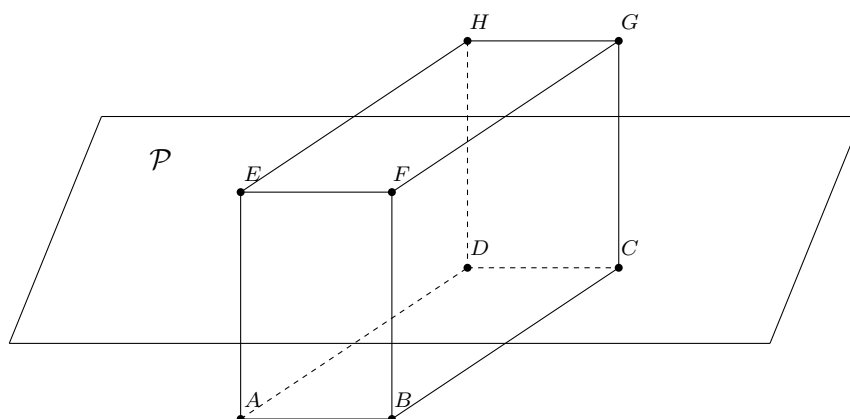
La section d'un pavé droit avec un plan parallèle à une arête est un rectangle dont les mesures dépendent du plan.

◇

Pour la démonstration de la propriété 3.4, on aura besoin du résultat suivant :

THÉORÈME 3.5 (« THÉORÈME DU TOIT »). Si deux plans distincts (non parallèles) contiennent deux droites parallèles, alors l'intersection de ces deux plans est une droite parallèle aux deux autres, c'est-à-dire, si $(d_1) \subset \mathcal{P}_1$, $(d_2) \subset \mathcal{P}_2$ et si $(d_3) = \mathcal{P}_1 \cap \mathcal{P}_2$ alors $(d_3) \parallel (d_1)$ et $(d_2) \parallel (d_3)$.

Démonstration de la propriété 3.4.



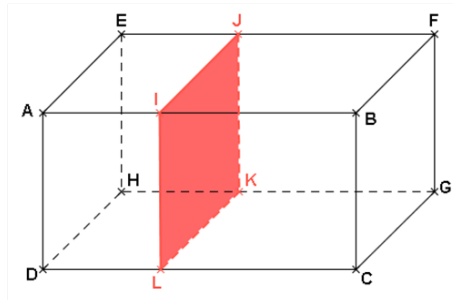
Soit \mathcal{P} un plan d'intersection parallèle avec (FB) . On montre que l'intersection est un rectangle.

Puisque $\mathcal{P} \parallel (FB)$, $\mathcal{P} \cap (BGC)$ est parallèle à (BF) . On montre de même que $\mathcal{P} \cap (EAD)$ est parallèle à (EA) .

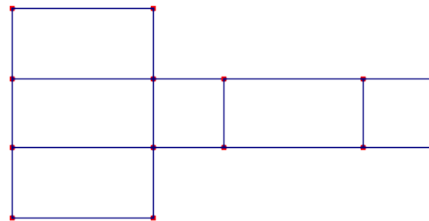
Donc les côtés opposés $\mathcal{P} \cap (BGC)$ et $\mathcal{P} \cap (EAD)$ sont parallèles. Ainsi, en utilisant le théorème de Thalès dans l'espace, on montre qu'ils sont de même longueur.

De plus, puisque $\mathcal{P} \cap (BCG)$ est parallèle à (BF) , elle est orthogonale à (ABC) , et en particulier à la droite $\mathcal{P} \cap (ABC)$.

On a donc un parallélogramme avec un angle droit, c'est un rectangle. □



On donne ci-dessous le patron du parallélépipède rectangle.



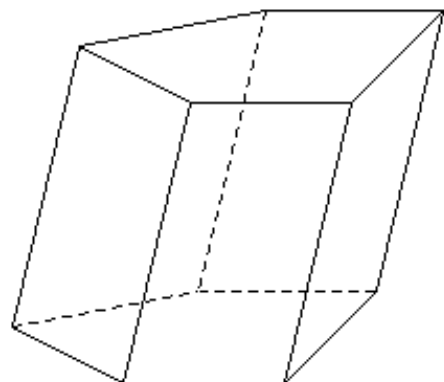
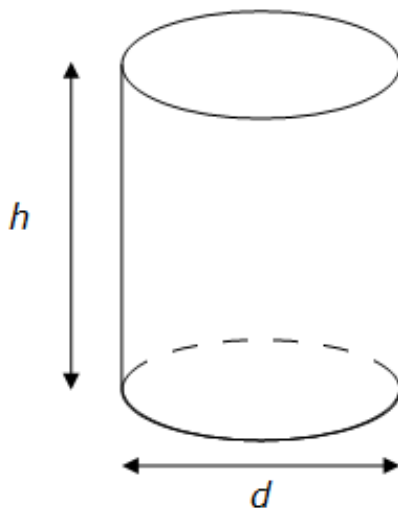
3.2 Prismes et cylindres

Définition 3.6. Soit \mathcal{P}_1 et \mathcal{P}_2 deux plans parallèles et M un point de \mathcal{P}_1 .

Soit un polygone \mathcal{P} et un cercle \mathcal{C} inclus dans \mathcal{P}_1 . On considère la droite (d) passant par M et non parallèle à \mathcal{P}_1 .

On appelle *prisme* (resp. *cylindre*) le solide délimité par la surface latérale que décrit (d) quand M décrit \mathcal{P} (resp. \mathcal{C}).

On appelle (d) *génératrice* du prisme (resp. cylindre) et la distance entre \mathcal{P}_1 et \mathcal{P}_2 est appelé *hauteur*.



Remarques 3.7. 1. Lorsque (d) est orthogonal à \mathcal{P}_1 , on dit que le prisme (resp. cylindre) est droit (resp. de révolution).

2. Les pavés sont des prismes droits.

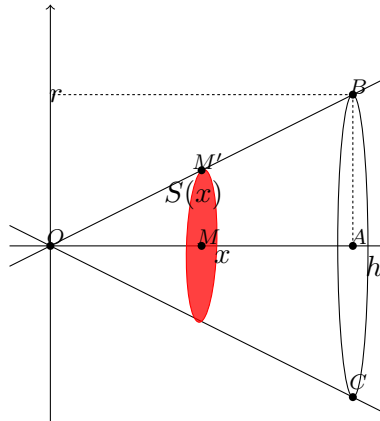
PROPRIÉTÉ 3.8. — Le volume du prisme et du cylindre est égal à :

$$\mathcal{V} = \text{aire de la base} \times \text{hauteur.}$$

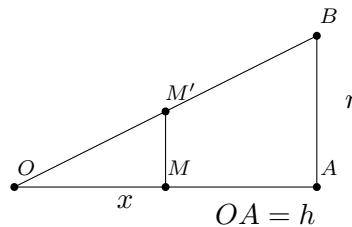
— L'aire du prisme et du cylindre est égal à :

$$\mathcal{A} = \text{périmètre de la base} \times \text{hauteur} + 2 \times \text{aire de la base.}$$

Démonstration. \diamond



On coupe le cône par un plan passant par la droite (OA) et on obtient le triangle OAB suivant :



D'après le théorème de Thalès :

$$MM' = \frac{rx}{h}$$

donc

$$S(x) = \pi \left(\frac{rx}{h} \right)^2.$$

$$\mathcal{V} = \int_0^h \frac{\pi r^2}{h^2} x^2 dx = \frac{\pi r^2}{h^2} \left[\frac{x^3}{3} \right]_0^h = \frac{\pi r^2 h}{3}.$$

Soit :

$$\mathcal{V} = \frac{\text{aire de la base} \times \text{hauteur}}{3}.$$

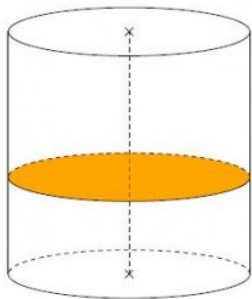
On peut faire de même pour démontrer le volume de la pyramide. \square

PROPRIÉTÉ 3.9. La section d'un cylindre de révolution ou d'un prisme droit avec un plan parallèle à la base est une figure identique à la base.

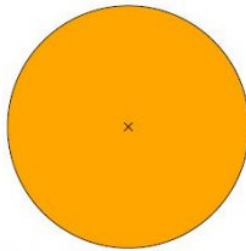
La section d'un prisme droit (resp. d'un cylindre de révolution) avec un plan parallèle à une arête

(resp. avec la hauteur) est un rectangle.

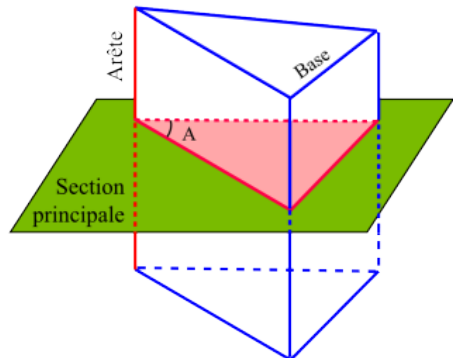
Démonstration. \diamond On peut utiliser le théorème de Thalès dans l'espace. □



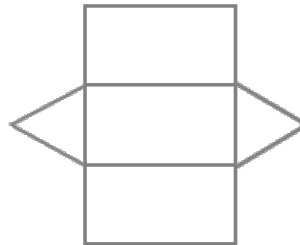
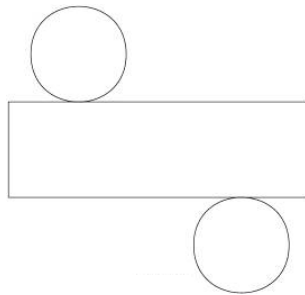
Vue en perspective



Vue de dessus

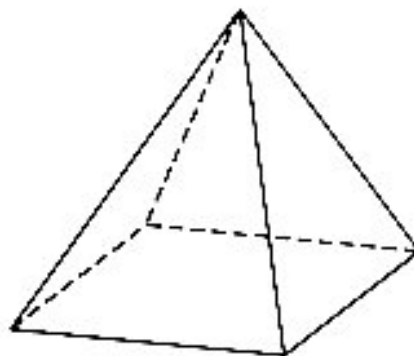


On donne ci-dessous les patrons du cylindre droit et du prisme.



3.3 Pyramide

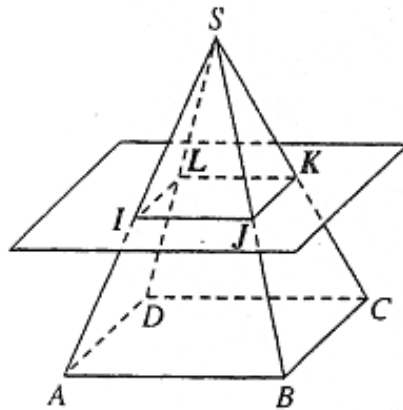
Définition 3.10. Une *pyramide* est un solide à base qui peut être quelconque (rectangulaire, carré, ou triangulaire) et les faces latérales sont des triangles.



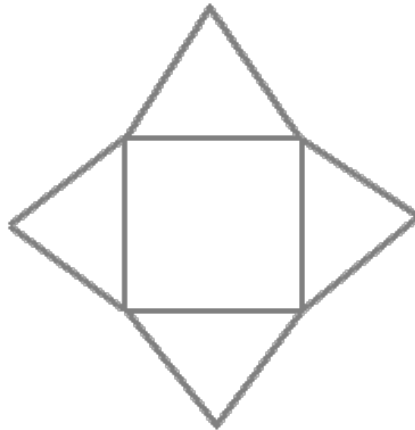
PROPRIÉTÉ 3.11. Si on note c le côté de la base et h la hauteur de la pyramide alors :

$$V = \frac{B \times h}{3} = \frac{c^2 \times h}{3}$$

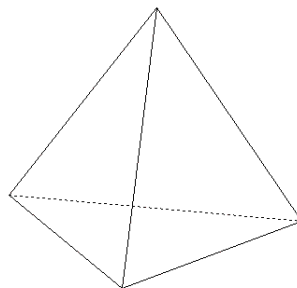
PROPRIÉTÉ 3.12. La section d'une pyramide avec un plan parallèle à la base est une réduction de la base de rapport $\frac{IJ}{AB}$.



On donne ci-dessous le patron d'une pyramide :



Définition 3.13 (Tétraèdre). Un *tétraèdre* est une pyramide à base triangulaire.



PROPRIÉTÉ 3.14. Si on note h la hauteur du tétraèdre et B l'aire de sa base alors :

$$V = \frac{B \times h}{3}.$$

PROPRIÉTÉ 3.15 (SECTION DU TÉTRAÈDRE). Si \mathcal{P} est parallèle à l'une des faces, la section est un triangle dont les côtés sont parallèles à ceux de la base.

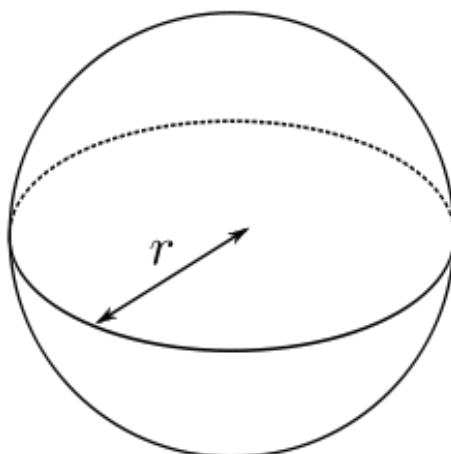
4 Solides de révolution

4.1 Définition

Définition 4.1. Un *solide de révolution* est engendré par une surface plane fermée tournant autour d'un axe.

4.2 Boule et sphère

Définition 4.2 (Boule et sphère). Une *boule* est un solide de révolution (on a fait tourner un cercle sur un axe). La *sphère* de centre O et de rayon r est le bord de la boule de même centre et de même rayon. C'est l'ensemble des points qui sont à distance r du point O .



PROPRIÉTÉ 4.3. En munissant l'espace d'un repère orthonormé $(O, \vec{i}, \vec{j}, \vec{k})$, $M(x, y, z)$ appartient à la sphère de centre $A(x_A, y_A, z_A)$ et de rayon R si et seulement si :

$$(x - x_A)^2 + (y - y_A)^2 + (z - z_A)^2 = R^2.$$

PROPRIÉTÉ 4.4. Le volume d'une sphère de rayon R est :

$$\mathcal{V} = \frac{4\pi R^3}{3}.$$

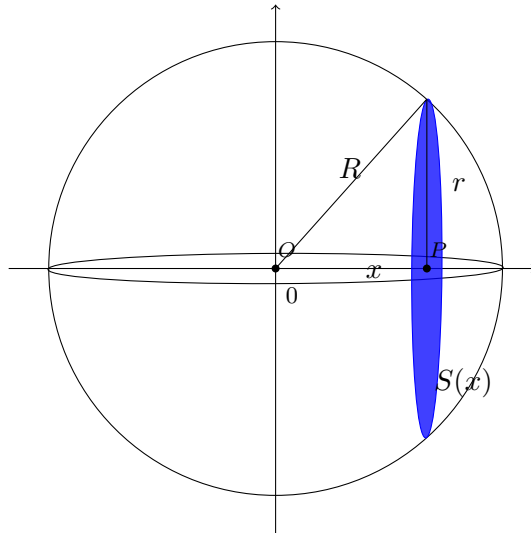
L'aire d'une sphère de rayon R est :

$$\mathcal{A} = 4\pi R^2.$$

Remarque 4.5. La formule du volume peut se démontrer de multiples façons selon le niveau : au collège en admettant le principe de Cavalieri, au lycée par une intégrale simple en supposant que le volume puisse s'obtenir en intégrant une surface le long d'un segment, et en BTS à l'aide d'intégrale triple.

Pour l'aire on peut tenter de justifier le fait qu'il suffise de dériver le volume (en supposant l'aire comme la limite d'un volume lorsque la hauteur tend vers 0). Une démonstration plus rigoureuse est possible en BTS grâce aux coordonnées sphériques et à une intégrale double.

◇ Une démonstration proposée en TS.



Avec le théorème de Pythagore, on peut affirmer que le rayon du disque d'intersection est : $r = \sqrt{R^2 - x^2}$. D'où :

$$\mathcal{V} = \int_{-R}^R S(x) dx = \int_{-R}^R \pi(R^2 - x^2) dx = 2\pi \left(\pi R^3 - \frac{R^3}{3} \right) = \frac{4}{3}\pi R^3.$$

□

◇ Une démonstration proposée en BTS. On rappelle les coordonnées sphériques :

$$\begin{cases} x = R \cos \theta \sin \varphi \\ y = R \sin \theta \sin \varphi \\ z = R \cos \varphi \end{cases}$$

Or : $dx dy dz = R^2 \times |\sin \varphi| dR d\varphi d\theta$ (R^2 est le déterminant de la matrice jacobienne). Si on note S la sphère :

$$\begin{aligned} \iiint_S dx dy dz &= \int_0^{2\pi} \int_0^\pi \int_0^R R^2 \sin \varphi dR d\varphi d\theta \\ &= \int_0^{2\pi} \int_0^\pi \frac{R^3}{3} \sin \varphi d\varphi d\theta \\ &= \int_0^{2\pi} \frac{2R^3}{3} d\theta = \frac{4\pi R^3}{3} \end{aligned}$$

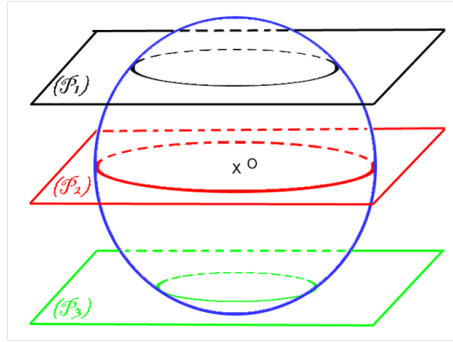
et pour l'aire, R ne varie pas :

$$\mathcal{A} = \int_0^{2\pi} \int_0^\pi R^2 \sin \varphi d\varphi d\theta = \int_0^{2\pi} 2R^2 d\theta = 4\pi R^2.$$

□

PROPRIÉTÉ 4.6. L'intersection d'une sphère et d'un plan est soit :

- vide ;
- un point (on dit alors que le plan est tangent à la sphère) ;
- un cercle.



Démonstration. \diamond

On peut toujours se ramener à un repère où l'équation du plan est $z = 0$. L'équation de la sphère dans ce repère est alors :

$$(x - x_0)^2 + (y - y_0)^2 + (z - z_0)^2 = R^2.$$

On a ainsi :

$$\begin{aligned} M \in \mathcal{P} \cap \mathcal{S} &\Leftrightarrow \begin{cases} z = 0 \\ (x - x_0)^2 + (y - y_0)^2 + (z - z_0)^2 = R^2 \end{cases} \\ &\Leftrightarrow \begin{cases} z = 0 \\ (x - x_0)^2 + (y - y_0)^2 = R^2 - z_0^2 \end{cases} \end{aligned}$$

On a alors trois cas :

- $|R| < |z_0|$: pas de solution, l'intersection est vide.
- $|R| > |z_0|$: c'est exactement l'équation d'un cercle de centre (x_0, y_0) et de rayon $\sqrt{R^2 - z_0^2}$ dans le plan $z = 0$.
- $|R| = |z_0|$: $S = \{(x_0, y_0, 0)\}$, l'intersection est un point.

□

Exercice 4.7. Déterminer l'intersection de $\mathcal{P} : x + y - 2z = 9 = 0$ avec la sphère de centre $(6, 5, 4)$ et de rayon 6.

\diamond *Solutions.* On calcule la distance de Ω , centre de la sphère au plan \mathcal{P} :

$$d(\Omega, \mathcal{P}) = \frac{|6 + 5 - 2 \times 4 - 9|}{\sqrt{1^2 + 1^2 + 2^2}} = \frac{6}{\sqrt{6}} = \sqrt{6} < 6.$$

L'intersection est un cercle, de centre $M(x_M, y_M, z_M)$. Soit $\vec{n} \begin{pmatrix} 1 \\ 1 \\ -2 \end{pmatrix}$ un vecteur normal de \mathcal{P} . On a :

$$\overrightarrow{\Omega M} // \vec{n} \Leftrightarrow C \begin{cases} x_M = 6 + \lambda \\ y_M = 5 + \lambda \\ z_M = 4 - 2\lambda \end{cases}$$

et

$$\Omega M^2 = 6 \Rightarrow \lambda^2 + \lambda^2 + 4\lambda^2 = 6 \Rightarrow \lambda^2 = 1$$

donc $\lambda = \pm 1$. On a alors $M(7, 6, 2)$ ou $M(5, 4, 6)$. Puisque $M \in \mathcal{P}$, on doit avoir $x_M + y_M - 2z_M = 9$ donc :

$$M(7, 6, 2) \quad \text{convient.}$$

Pour avoir le rayon du disque, on utilise Pythagore :

$$r'^2 = 36 - 6 = 30 \Rightarrow r' = \sqrt{30}.$$

On en conclut que :

$$\mathcal{P} \cap \mathcal{S}_{\Omega,6} = \mathcal{C}_{(7,6,2),\sqrt{30}}.$$

□

5 Solides de Platon

Définition 5.1 (Solide de Platon). Un *solide de Platon* est un polyèdre régulier, c'est-à-dire inscrit dans une sphère et toutes ses faces sont des polygones réguliers isométriques.

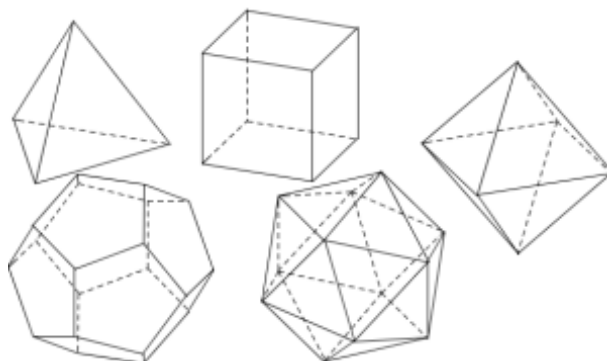
PROPRIÉTÉ 5.2. Chaque solide de Platon vérifie la formule d'Euler :

$$F + S = A + 2$$

avec F le nombre de faces, A le nombre d'arêtes et S le nombre de sommets.

THÉORÈME 5.3. Il y a 5 solides de Platon :

1. l'icosaèdre qui est composé de 20 faces (qui sont des triangles équilatéraux), 12 sommets et 30 arêtes ;
2. le dodécaèdre qui est composé de 12 faces (qui sont des pentagones réguliers), 20 sommets et 30 arêtes ;
3. l'octaèdre qui est composé de 8 faces (qui sont des triangles équilatéraux), 6 sommets et 12 arêtes ;
4. le cube qui est composé de 6 faces (qui sont des carrés), 8 sommets et 12 arêtes ;
5. le tétraèdre qui est composé de 4 faces (qui sont des triangles équilatéraux), 4 sommets et 6 arêtes.



Démonstration. \diamond On montre qu'il y a cinq et seulement cinq solides de Platon. On considère un polyèdre régulier et on note s le nombre de sommets, f le nombre de faces et a le nombre d'arêtes du polyèdre. On note aussi q le nombre de côtés du polygone régulier qui constitue la face du polyèdre et p le nombre de faces qui aboutissent chacun de ses sommets. On a alors : $f q = 2a$ et $s p = 2a$. Il s'agit donc de résoudre :

$$\begin{cases} s - a + f = 2 \\ f q = 2a \\ s p = 2a \end{cases}$$

d'où

$$s = \frac{4q}{2p + 2q - pq}, \quad a = \frac{2pq}{2p + 2q - pq}, \quad f = \frac{4p}{2p + 2q - pq}.$$

On recherche alors tous les couples d'entiers (p, q) vérifiant $p \geq 3$, $q \geq 3$ et $2p + 2q - pq > 0$ et on en obtient exactement 5 :

$$(3, 3), (4, 3), (3, 4), (5, 3), (3, 5),$$

desquels on déduit les triples (s, a, f) correspondants :

$$(4, 6, 4), (6, 12, 8), (8, 12, 6), (12, 30, 20), (20, 30, 12).$$

